

بسمه تعالی



www.barttar.ir

دبستان:

کلاس:

آزمون ریاضی چهارم ابتدایی

(فصل یک)

تاریخ:

مدت آزمون:

نام و نام خانوادگی:

با توجه به جملات زیر ، درست یا نادرست بودن آنها را مشخص کن .

- الف - اولین رقم سمت چپ اعداد نمی تواند صفر باشد. درست نادرست
- ب - ۱۰۰ بسته‌ی هزار تایی با ۱۰ بسته‌ی ده هزار تایی برابر است. درست نادرست
- ج - اگر آخرین رقم عددی در مرتبه دهگان میلیون قرار داشته باشد، آن عدد ۷ رقمی است. درست نادرست
- د - در همه‌ی اعداد اولین رقم سمت چپ، بیشترین ارزش مکانی را دارد. درست نادرست

در هر سوال گزینه مناسب را مشخص کنید.

- ۱) کدام یک از گزینه‌های زیر عدد بعدی الگوی روبرو را نشان می‌دهد؟
..... - ۱۳ - ۱۹ - ۲۵ → الگو
- الف) ۷ ب) ۶ ج) ۳۱ د) ۳۲
- ۲) بزرگترین عدد ۶ رقمی که در آن رقم‌های صفر و ۵ بکار رفته باشد، چند است؟
- الف) ۹۰۹۹۹۵ ب) ۹۹۹۹۵۰ ج) ۹۹۹۹۰۵ د) ۵۰۹۹۹۹

به سوالات زیر با دقت پاسخ دهید.

۴) به حروف و عدد بنویسید.

۸۰۱۰۲۵۰۰۳ →

۵۰۰۳۰۱۱۰۰ →

سیزده میلیون و دویست و دو هزار و چهارصد

یکصد و نوزده میلیون و هفتصد و دو هزار و دوازده

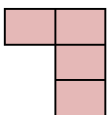
۵) عدد نود و شش میلیون و هشت هزار و دویست را:

الف) به رقم بنویسید.

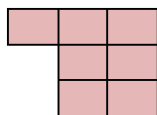
ب) ارزش مکانی بزرگ‌ترین رقم چیست؟

ج) رقم یکان هزار این عدد چند است؟


۶) با توجه به شکل مقابل بگویید شکل ششم با چند مربع درست می‌شود؟



شکل ۱



شکل ۲



شکل ۳

شکل ۶

بسمه تعالی



www.barttar.ir

دبستان:

کلاس:

نام و نام خانوادگی:

آزمون ریاضی چهارم ابتدایی

(فصل یک)

تاریخ:

مدت آزمون:

۷) قیمت لوازم برقی زیر را از بزرگ به کوچک، به ترتیب نوشته و به سوال‌ها پاسخ دهید.



۸۴۲۰۰



۲۱۰۰۰۰



۱۸۵۰۰۰



۷۸۲۰۰



۱۱۲۱۰۰

----- > ----- > ----- > ----- > -----

الف) برای خرید یک سشوار، یک چرخ گوشت و یک همزن برقی چند تومان باید بپردازیم؟

ب) قیمت رادیو چند تومان کمتر از قیمت تلویزیون است؟

ج) برای خریدن همه‌ی این لوازم چقدر باید بپردازیم؟

۸) شکل زیر پول‌های احمد را نشان می‌دهد. او چند ریال پول دارد؟



..... به حروف

..... به رقم

۹) عدد‌های مورد نظر را بنویسید.

الف) - بزرگترین عدد زوج شش رقمی :

ب) - کوچکترین عدد فرد شش رقمی :

ج) - بزرگترین عدد زوج سه رقمی با رقمهای (۵، ۶، ۷):

د) - کوچکترین عدد فرد چهار رقمی با رقمهای (۱، ۲، ۸، ۹):

درست یا نادرست

الف- درست ب- درست ج- نادرست د- درست

سوالات چهارگزینه‌ای

۱- گزینه‌ی الف صحیح است.

۲- گزینه‌ی ب صحیح است.

به سوالات زیر با دقت پاسخ دهید

۳-

هشتصد و یک میلیون و بیست و پنج هزار و سه

پانصد میلیون و سیصد و یک هزار و یکصد

۱۳۲۰۲۴۰۰

۱۱۹۷۰۲۰۱۲

۴- الف - ۹۶۰۰۸۲۰۰ ب- دهگان میلیون ج- ۸

۵- ۱۹ مربع

۶-

$$۲۱۰۰۰ > ۱۸۵۰۰۰ > ۱۱۲۱۰۰ > ۸۴۲۰۰ > ۷۸۲۰۰$$

$$\text{الف} - ۷۸۲۰۰ + ۲۱۰۰۰۰ + ۸۴۲۰۰ = ۳۷۷۲۴۰۰$$

$$\text{ب} - ۱۸۵۰۰۰ - ۱۱۲۱۰۰ = ۷۲۹۰۰$$

$$\text{ج} - ۸۴۲۰۰ + ۲۱۰۰۰۰ + ۱۸۵۰۰۰ + ۷۸۲۰۰ + ۱۱۲۱۰۰ = ۶۶۹۵۰۰$$

۷- به رقم؛ ۴۵۰۰۰ ریال به هروف پول و پنج هزار ریال

۸- الف - ۹۹۹۹۹۸ ب- ۱۰۰۰۰۱ ج- ۷۵۶ د- ۱۲۸۹