

بسمه تعالی



www.barttar.ir

دبستان:

کلاس:

نام و نام خانوادگی:

آزمون ریاضی چهارم ابتدایی

تاریخ:

(فصل یک)

مدت آزمون:

با توجه به جملات زیر ، درست یا نادرست بودن آنها را مشخص کن .

- الف - عدد شانزده میلیون ششصد و بیست، عددی ۷ رقمی است. درست نادرست
- ب - در همه‌ی اعداد اولین رقم سمت راست، کمترین ارزش مکانی را دارد. درست نادرست
- ج - یک عدد چهار رقمی می‌تواند از یک عدد پنج رقمی بزرگتر باشد. درست نادرست

جاهای خالی را با اعداد و کلمات مناسب کامل کنید.

الف) هزار دسته هزارتایی می‌شود

ب) کوچکترین عدد ۵ رقمی بدون تکرار رقم‌ها، است.

ج) رقم دهگان هزار در سی میلیون و شانزده هزار، است.

به سوالات زیر با دقت پاسخ دهید.

۱) اعداد زیر را به حروف بنویسید.

۴۰۲۹۸۴۰۰۱ →

۷۸۰۱۲۹۰۰۰ →

۲) عدد ششصد و بیست میلیون و هفده هزار و چهل را:

الف) به رقم بنویسید.

ب) بزرگ‌ترین رقم در چه مرتبه‌ای قرار دارد؟

ج) رقم دهگان میلیون این عدد چند است؟

۳) ماشین ورودی و خروجی زیر را کامل کنید.



بسمه تعالی



www.barttar.ir

تاریخ:
مدت آزمون:


آزمون ریاضی چهارم ابتدایی
(فصل یک)

دبستان:
کلاس:
نام و نام خانوادگی:


۴) هر کدام از شکل های زیر از تعدادی دایره درست شده است. اگر شکل ها را به همین ترتیب ادامه دهیم، دایره های شکل هفتم را رسم کنید.



شکل ۱



شکل ۲



شکل ۳

شکل ۷

۵) عدد های زیر را با هم مقایسه کنید.

۴۲۱۸۹ ○ ۴۲۵۸۹

۹۰۰۱۲ ○ ۹۰۰۹

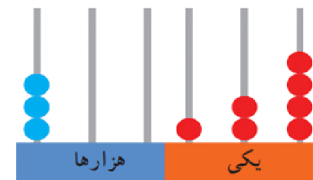
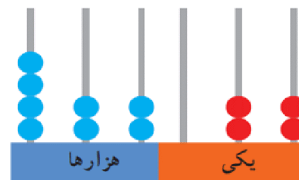
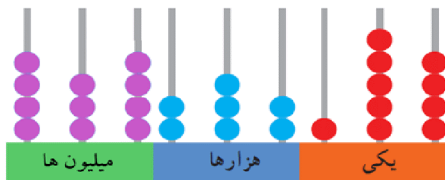
۱۴۲۵۱ ○ ۶۵۰۲

۱۲۴۰۰۱ ○ ۱۲۵۴۱

۶۰۲۰۲ ○ ۶۲۰۲۰

۱۴۷۸۹ ○ ۹۴۸۵۷

۶) عددی را که هر شکل نشان می دهد، به رقم و حروف بنویسید.



۷) در جاهای خالی جدول عدد مناسب بنویسید.

طول ضلع مربع	۴			۹		
محیط مربع		۴			۲۸	
مساحت مربع			۹			۱۰۰

بسمه تعالی

پاسخنامه

آزمون ریاضی چهارم ابتدایی

(فصل یک)

درست یا نادرست

الف- نادرست ب- درست ج- نادرست

پاهای قالی

الف- یک میلیون ب- ۱۰۲۳۴ ج- یک

به سوالات زیر با دقت پاسخ دهید

۱- چهارصد و دومیلیون و نهصد و هشتاد و چهار هزار و یک - هفتصد و هشتاد میلیون و یکصد و بیست و نه هزار

۲- الف - ۶۲۰۰۷۰۴۰ ب- یکان هزار ج- دو


۳-

طول یک ضلع مربع

محیط مربع



۴-



شکل ۷

۵-

۴۲۱۸۹ < ۴۲۵۸۹

۹۰۰۱۲ > ۹۰۰۹

۱۴۲۵۱ > ۶۵۰۲

۱۲۴۰۰۱ > ۱۲۵۴۱

۶۰۲۰۲ < ۶۲۰۲۰

۱۴۷۸۹ < ۹۴۸۵۷

۴۳۴۲۳۲۱۵۴

۴۲۲۰۲۲

۳۰۰۱۲۴

۶-

۷-

طول ضلع مربع	۴	۱	۳	۹	۷	۱۰
محیط مربع	۱۶	۴	۱۲	۳۶	۲۸	۴۰
مساحت مربع	۱۶	۱	۹	۸۱	۴۹	۱۰۰