

بسمه تعالی

دبستان:

کلاس:

نام و نام خانوادگی:

آزمون ریاضی سوم ابتدایی

(فصل ۱)

تاریخ:

مدت آزمون:



www.barttar.ir

۱- علی هر شب ساعت ۹ شب به خانه می آید . او چه ساعتی به خانه می آید؟

الف : ۲۱ □ ب : ۱۹ □ ج : ۱۸ □ د : ۲۳ □

۲- الگوها را ادامه دهید.

۲ ، ۵ ، ۹ ، ----- ، ----- ، -----

۵ ، ۱۱ ، ۱۷ ، ----- ، ----- ، -----

۳- امروز سه شنبه و اولین روز ماه است . تا آخر این ماه ، سه شنبه‌ها چه روزهایی از ماه هستند؟

۴- مغازه‌داری نوعی بیسکویت را بسته‌ای ۲۵۰ می‌خرد و ۳۰۰ می‌فروشد . با کامل کردن جدول، سود فروش هر بیسکویت را حساب کنید و به سوالات زیر پاسخ دهید.

تعداد بیسکویت								
سود بیسکویت								

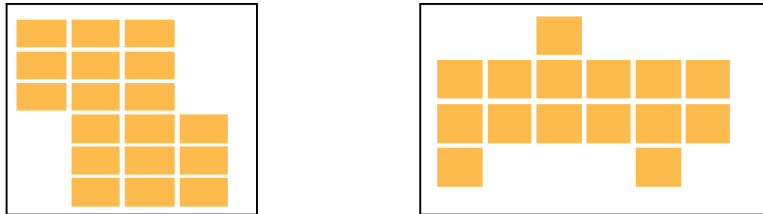
الف : اگر این مغازه دار ۷ بسته بیسکویت بفروشد ، چقدر سود می‌کند؟

ب : چند بسته بیسکویت باید بفروشد تا با سود آن یک بسته بیسکویت بخرد؟

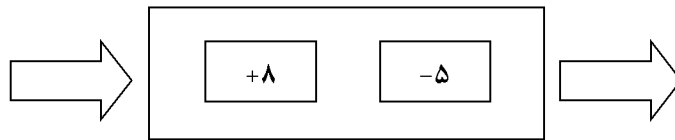
۵- هلیا روز شنبه ۲ صفحه از کتاب داستان خود را خواند و برنامه‌ریزی کرد که تا آخر هفته ۲ صفحه بیشتر از روز قبل کتاب داستانش را بخواند. او در یک هفته چند صفحه از کتاب خود را می‌خواند؟

۶- در الگوی شمارش ۶ تا ۶ تا ۲ عدد بعد از ۳۶ چند است ؟

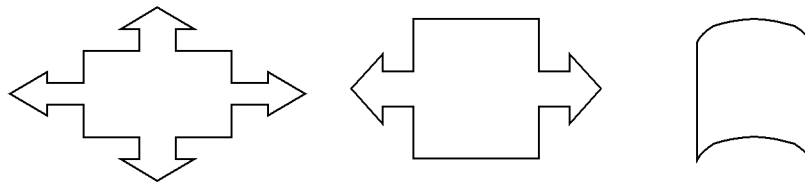
۷- شکل‌های زیر را دسته بندی کنید و به کمک الگوهای شمارش چند تا چند تا تعداد مربع‌های هر شکل را به دست آورید .



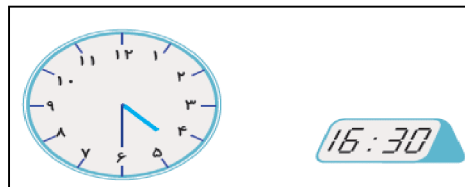
۸- کای که ماشین مقابل انجام می‌دهد را توضیح دهید .



۹- خط تقارن شکل‌های زیر را رسم کن .



۱۰- چرا هر دو ساعت یک زمان را نشان می‌دهند؟ توضیح دهید .



۱۱- جدول زیر را کامل کنید .

زمان	۱۸			۱۷:۱۰	بیست	
بعد از ظهر		۳	۰۲:۲۵			یک و نیم

۱- گزینه‌ی الف درست است.

۲-

۲، ۵، ۹، ۱۴، ۲۰، ۲۷

۵، ۱۱، ۱۷، ۲۳، ۲۹، ۳۵

۳- ۱، ۸، ۱۵، ۲۲، ۲۹

۴- الف : ۳۵۰ ، ب : ۵ بیسکویت


تعداد بیسکویت	۱	۲	۳	۴	۵	۶	۷
سود بیسکویت	۵۰	۱۰۰	۱۵۰	۲۰۰	۲۵۰	۳۰۰	۳۵۰

۵-

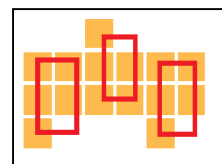
جمعه	پنجشنبه	چهارشنبه	سه شنبه	دو شنبه	یکشنبه	شنبه	روز
۱۴	۱۲	۱۰	۸	۶	۴	۲	تعداد صفحه

۶- عدد ۴۸

۷-



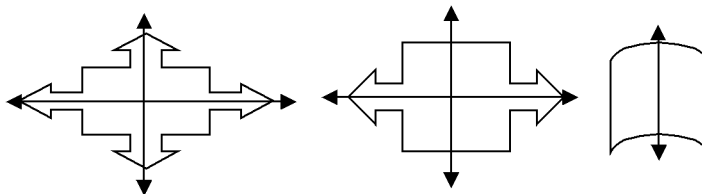
۶، ۱۲، ۱۸



۵، ۱۰، ۱۵

۸-

۹- هر عددی که وارد ماشین می‌شود ابتدا با ۸ جمع می‌شود و سپس از حاصل آن ۵ تا کم می‌شود و پاسخ فارغ می‌شود.



۱۰- چون یک شبانه روز ۲۴ ساعت است و ساعت ۴ بعد از ظهر همان ساعت ۱۶ می‌شود. در نتیجه ساعت ۴:۳۰ بعد از ظهر همان ساعت ۳۰:۱۶ می‌باشد.

زمان	۱۸	۱۵	۱۴:۲۵	۱۷:۱۰	بیست	۳۰:۱۰
بعد از ظهر	۶	۳	۰۲:۲۵	۰۵:۱۰	۸	یک و نیم

۱۱-