

بسمه تعالی

دبستان:

کلاس:

نام و نام خانوادگی:

آزمون ریاضی سوم ابتدایی

(فصل ۱)

تاریخ:

مدت آزمون:



www.barttar.ir

۱- الگوهای عددی زیر را ادامه دهید.

۵،۱،۳ _____ ، _____ ، _____

۰،۱،۴، _____ ، _____ ، _____

۱۵۰،۲۰۰،۲۵۰، _____ ، _____ ، _____

۲- علی هربادکنک را ۳۵۰ تومان می خرد و ۴۰۰ تومان می فروشد با کامل کردن جدول پاسخ سؤالات زیر را بنویسید.

الف: اگر او ۲ بادکنک بفروشد چقدر سود می کند؟

ب: چند بادکنک باید بفروشد تا ۲۵۰ تومان سود کند؟

ج: چند بادکنک باید بفروشد تا با سود آن بتواند یک بادکنک بخرد؟

تعداد بادکنک	۱	۲	۳	۴	۵	۶	۷	۸
سود بادکنک								

۳- امروز دوشنبه و اولین روز ماه است. تا آخر این ماه ، دوشنبه ها چه روزهایی از ماه هستند؟

۴- جدول زیر را کامل کن.

زمان	۱۵		۱۷:۲۵	بیست	
بعد از ظهر		۲:۲۰			هفت ونیم



www.barttar.ir

بسمه تعالی

آزمون ریاضی سوم ابتدایی

(فصل ۱)

تاریخ:

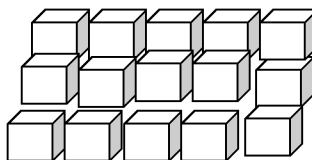
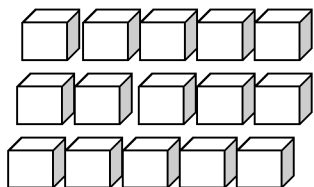
مدت آزمون:

دبستان:


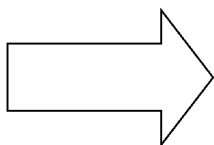
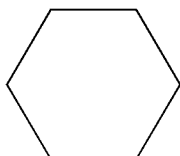
کلاس:

نام و نام خانوادگی:

۵- مکعب های زیر را با ۲ روش دسته بندی کنید و با شمارش چندتا چندتا تعداد آن ها را به دست آورید؟

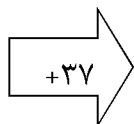


۶- خط تقارن شکل های زیر را رسم کن.



۷- با توجه به ماشین های داده شده جاهای خالی را پر کنید.

۵۶	
	۹۲
	۵۸
۶۷	
	۱۷۷



۸- دو ماهی قرار گذاشتند شنا کنند. مسابقه ی آن ها ساعت ۱۱ شروع شد و ۴ ساعت هم طول کشید. مسابقه ی آن ها چه ساعتی به پایان رسید؟ به دو صورت بنویسید.

سؤال ۱

۱۱، ۹، ۷، ۵، ۳، ۱

۲۵، ۱۶، ۹، ۴، ۱، ۰

۳۰۰، ۳۵۰، ۱۵۰، ۲۰۰، ۲۵۰

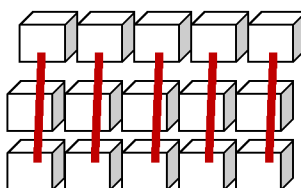
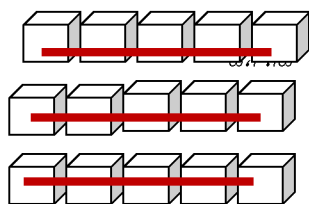
تعداد بارکنگ	۱	۲	۳	۴	۵	۶	۷	۸
سود بارکنگ	۵۰	۱۰۰	۱۵۰	۲۰۰	۲۵۰	۳۰۰	۳۵۰	۴۰۰

سؤال ۳

۲۹، ۲۲، ۱۵، ۸، ۱

سؤال ۴


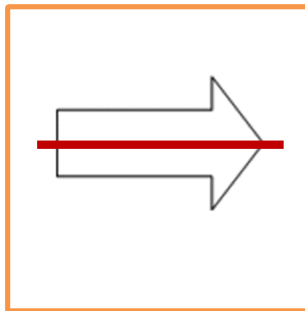
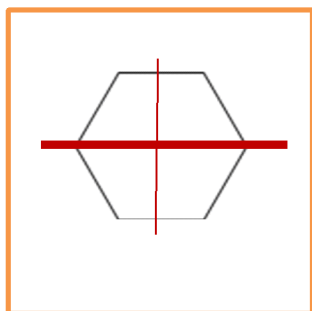
زمان	۱۵	۱۴:۲۰	۱۷:۲۵	۲۰	۱۹:۳۰
بعد از ظهور	۳	۲:۲۰	۵:۲۵	۸	۷:۳۰



۱۵، ۱۲، ۹، ۶، ۳

سؤال ۵

سؤال ۶





www.barttar.ir

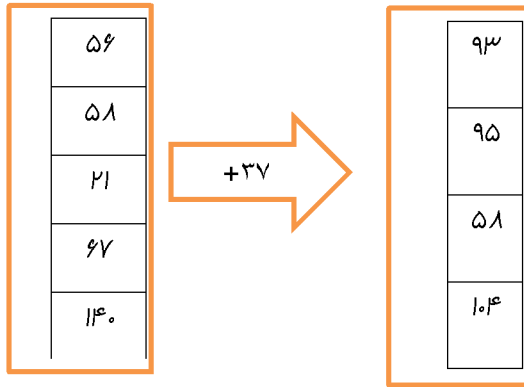
بسمه تعالی

پاسخنامه

آزمون ریاضی سوم ابتدایی

(فصل ۱)

سؤال ۷



سؤال ۸

$$11 + 4 = 15$$

$$15 - 12 = 3$$