

## بسمه تعالی



www.barttar.ir

تاریخ:  
مدت آزمون:

آزمون ریاضی سوم ابتدایی  
(فصل ۱)

دبستان:  
کلاس:  
نام و نام خانوادگی:

۱- الگوها را ادامه دهید.

۱،۳،۶، \_\_\_\_\_ ، \_\_\_\_\_ ، \_\_\_\_\_

۰،۹، ۱۸، \_\_\_\_\_ ، \_\_\_\_\_ ، \_\_\_\_\_

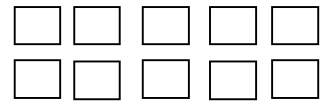

۱۰،۳۰،۵۰، \_\_\_\_\_ ، \_\_\_\_\_ ، \_\_\_\_\_

۲- ساختمانی ۷ طبقه داریم . هر طبقه ۳ واحد دارد.

الف: ۳ طبقه ی آن چند واحد دارد؟

ب: ۵ طبقه ی آن چند واحد دارد؟

۳- شکل های زیر را دسته بندی کنید و به کمک نوشتن یک عبارت جمع ، تعداد مربع های هر شکل را به دست آورید.



۴- قطار تهران - تبریز ساعت ۷:۳۰ صبح از تهران به سمت تبریز حرکت کرد و پس از ۱۱ ساعت به تبریز رسید.

قطار چه ساعتی به تبریز رسیده است ؟ به دو صورت بیان کنید.

۵- زهرا هر شب ساعت ۱۰:۳۰ برای خواب به رختخواب می رود و یک ونیم ساعت قبل شام می خورد زهرا چه ساعتی شام می خورد؟



www.barttar.ir

## بسمه تعالی

### آزمون ریاضی سوم ابتدایی

( فصل ۱ )

تاریخ:  
مدت آزمون:

دبستان:  
کلاس:  
نام و نام خانوادگی:

۶- هر ساعت زمانی از بعد از ظهر را نشان می دهد زمان نمایش داده شده را بنویسید .

۱۳:۰۰

۲۱:۲۰

۱۶:۰۵

۱۸:۰۰


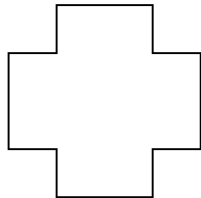

\_\_\_\_\_ ساعت حمید

\_\_\_\_\_ ساعت حسن

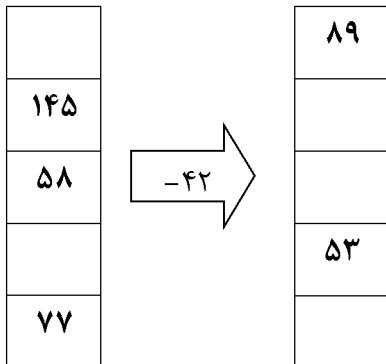
\_\_\_\_\_ ساعت علی

\_\_\_\_\_ ساعت مهدی

۷- خط تقارن شکل های زیر را رسم کن



۸- با توجه به ماشین های داده شده جاهای خالی را پر کنید.



۹- کاری را که ماشین رو به رو انجام می دهد توضیح دهید .



بسمه تعالی

پاسخنامه

آزمون ریاضی سوم ابتدایی

(فصل ۱)



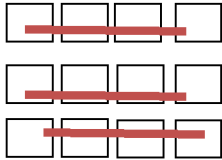
www.barttar.ir

سؤال ۱

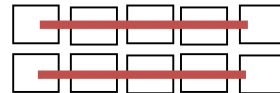
۱, ۳, ۶, ۱۰, ۱۵, ۲۱  
 ۰, ۹, ۱۸, ۲۷, ۳۶  
 ۱۰, ۳۰, ۵۰, ۷۰, ۹۰, ۱۱۰

سؤال ۲

طبقه	۱	۲	۳	۴	۵	۶	۷
واحد	۳	۶	۹	۱۲	۱۵	۱۸	۲۱



$۳ + ۳ + ۳ = ۹$



$۵ + ۵ = ۱۰$

سؤال ۳

$۱۸ : ۳۰ - ۱۲ = ۶ : ۳۰$

$۱۱ + ۷ : ۳۰ = ۱۸ : ۳۰$

$۱ : ۳۰ + ۱۰ : ۳۰ = ۹ : ۳۰$

سؤال ۴

سؤال ۵

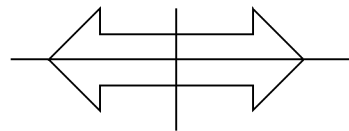
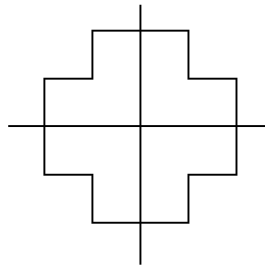
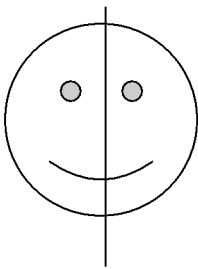
سؤال ۶

ساعت موهری ۱

ساعت همبر ۹:۲۰

ساعت مسن ۴:۰۵

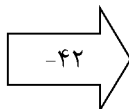
ساعت علی ۶



سؤال ۷

سؤال ۸

۱۳۱	۱۹
۱۴۵	۱۰۳
۵۱	۱۶
۹۵	۵۳
۷۷	۳۵



سؤال ۹ هر عددی که وارد این ماشین شود ابتدا با عدد ۵ جمع می شود سپس ۳۲ تا از حاصل کم می شود