

## بسمه تعالی

دبستان:

کلاس:

نام و نام خانوادگی:

آزمون ریاضی پایه دوم ابتدایی

( فصل ۱ )

تاریخ:

مدت آزمون:



www.barttar.ir

۱- فرزند عزیزم با رنگ کردن شکل‌ها به روش‌های مختلف حاصل عبارت را به دست آورید.



$$6 + 3 = \dots\dots\dots$$



$$\dots\dots\dots + \dots\dots\dots = \dots\dots\dots$$



$$\dots\dots\dots + \dots\dots\dots = \dots\dots\dots$$

۲- نازنینم دور اعدادی که رقم یکانش از دهگان‌ش بیشتر است خط بکش.

۵۷ - ۶۰ - ۲۱ - ۳۶ - ۹۸ - ۲۵ - ۷۹

۳- دلبندم جمع و منهای زیر را با روش‌های گفته شده به دست بیار و در جای خالی جمع مناسب بنویس.

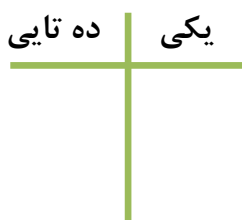
$$10 + 4 - 3 = (\text{محور})$$

$$\dots\dots\dots + \dots\dots\dots = \dots\dots\dots$$



$$9 - 12 = (\text{چوب خط})$$

۴- سه دسته‌ی ده تایی مداد را با شش دسته‌ی ده تایی مداد را روی هم ریخته ایم. به آنها سه تا یکی اضافه کرده ایم. سپس یک دسته‌ی ده تایی مداد را استفاده کرده ایم. حالا دلبندم جدول را کامل کن و بگو الان چند مداد داریم؟



به عدد: .....

به حروف: .....

## بسمه تعالی



www.barttar.ir

تاریخ:  
مدت آزمون:

آزمون ریاضی پایه دوم ابتدایی  
( فصل ۱ )

دبستان:  
کلاس:  
نام و نام خانوادگی:

۵- فرزند توانای من ساعت های زیر را کامل کن.



ساعت از ..... گذشته است.



کمی مانده به ساعت .....

۶- ریاضی دان باهوشم به سوالات زیر پاسخ بده.

(۱) اگر عدد های ۹ و ۴ و ۳ را با هم جمع کنیم و سپس ۲ تا از آن کم کنیم چند می شود؟ ..... با ارقام آن دو عدد دیگر بنویس. ....

(۲) ۲ عدد، عدد دو رقمی بنویس که مجموع ارقام آن ۹ شود؟ .....

(۳) پنج عدد دو رقمی بنویس که از عدد ۳۹ بزرگتر و از عدد ۴۶ کوچکتر باشد. ....

(۴) من چه عددی هستم؟ رقم یکان من کوچکترین عدد یک رقمی و رقم دهگانم هفت تا از یکانم بیشتر است. ....

(۵) سه عدد بعدی الگوی زیر را بنویس.

.....-.....-.....- ۳-۶

۷- دلبندم جا های خالی را کامل کن.

$$۲۰ + \dots + ۱۰ + ۳ + ۵ + \dots + \dots = ۵۳$$

$$۸ + ۸ + ۸ = \dots$$

$$۷ + \dots + ۹ - ۶ + \dots = ۲۲$$

$$\dots - \dots = ۱۱$$



۶ + ۳ = ... ۹ ... -۱



... ۴ ... + ... ۵ ... = ... ۹ ...



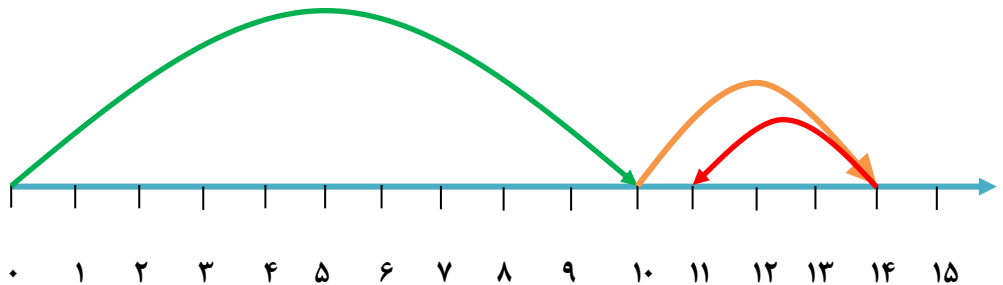
... ۲ ... + ... ۷ ... = ... ۹ ...

-۲

۵۷ - ۶۰ - ۲۱ - ۳۶ - ۹۸ - ۲۵ - ۷۹

-۳

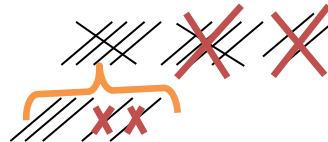
۱۰ + ۴ - ۳ = ۱۱



... ۷ ... + ... ۹ ... = ... ۱۶ ...



۹ - ۱۲ = ۳ (چوب خط)



-۴

ده تایی	یکی
۸	۳

به عدد: ۸۳

به عدد: هشتاد و سه

-۵



ساعت از ۸..... گذشته است.



کمی مانده به ساعت ۲.....

-۶

(۱) اگر عدد های ۹ و ۴ و ۳ را با هم جمع کنیم و سپس ۲ تا از آن کم کنیم چند می شود؟ ۱۴ با ارقام آن دو عدد دیگر بنویس. ۴۴ ۴۱

(۲) ۲ عدد دو رقمی بنویس که مجموع ارقام آن ۹ شود؟ ۴۵ و ۸۱ و ۱۸ و ۵۴ و ۶۳ ...

(۳) پنج عدد دو رقمی بنویس که از عدد ۳۹ بزرگتر و از عدد ۴۶ کوچکتر باشد. ۴۰..... ۴۱.....

۴۲..... ۴۳..... ۴۴..... و ۴۵

(۴) من چه عددی هستم؟ رقم یکان من کوچکترین عدد یک رقمی و رقم دهگانم هفت تا از یکانم بیشتر است. ۸۱

## بسمه تعالی

پاسخنامه

آزمون ریاضی پایه دوم ابتدایی

( فصل ۱ )



www.barttar.ir

(۵) سه عدد بعدی الگوی زیر را بنویس.

$$\begin{array}{r} 3-6-9-12-15 \\ \curvearrowright \quad \curvearrowright \quad \curvearrowright \\ +3 \quad +3 \end{array}$$

-۷

$$20 + 10 + 10 + 3 + 5 + 3 + 2 = 53$$

$$8 + 8 + 8 = 24$$

$$7 + 6 + 9 - 6 + 6 = 22$$

$$15 - 4 = 11$$

\*عدد های نوشته شده پیشنهادی می باشند و هر عددی که توسط دانش آموزان نوشته شود و مجموع آنها با جواب برابر باشد صحیح است.