

بسمه تعالی

دبستان:

کلاس:

نام و نام خانوادگی:

آزمون ریاضی پایه دوم ابتدایی

(فصل ۱)


تاریخ:

مدت آزمون:



www.barttar.ir

۱- دلبندم برای شمارش شکل ها آنها را به دسته های ده تایی تقسیم کن و با کامل کردن جدول، تعداد شکل ها را بنویس .



ده تایی یکی

به عدد :

به حروف :

۲- - نگار ۲۸ گل دارد. ۷ تا از گل ها ، گل مریم و بقیه گل نرگس هستند. نگار چند گل نرگس دارد؟ (با روش چوب خط)

۳- فرزند عزیزم حاصل جمع و تفریق های زیر را با استفاده از روش های گفته شده به دست آورید.

$$۱۴ - ۳ = (\text{محور})$$



$$۸ + ۴ - ۳ = (\text{شکل})$$

۴- نازنینم، با رقم های ۲ ، ۰ ، ۳ هر چند تا عدد دو رقمی که می توانی بنویس .

.....



www.barttar.ir

بسمه تعالی

آزمون ریاضی پایه دوم ابتدایی

(فصل ۱)

تاریخ:

مدت آزمون:

دبستان:

کلاس:

نام و نام خانوادگی:

۵- دلبندم الگوهای زیر را ادامه بده.

.....-.....-.....- ۲۵ - ۳۲ - ۳۹

۸۸ - ۸۹ --.....- ۹۲-.....-.....

شصت و چهار - شصت و شش - شصت و هشت --.....-.....

۶- ریاضی دان باهوشم به سوالات زیر پاسخ بده.

(۱) عدد قبل از ۷۶ چه عددی است؟..... اگر شش عدد به جلو بریم به چه عددی می رسی؟

.....

(۲) عدد ۵۳ چند رقمی است؟..... با رقم های آن دو عدد دیگر بنویس

(۳) من چه عددی هستم؟ رقم دهگانم هشت و یکانم بزرگترین عدد یک رقمی است.


(۴) اگر از بزرگترین عدد دو رقمی که ارقامش تکراری نباشد سه تا کم کنیم چه عددی می شود؟


(۵) سه عدد بنویس که دهگانش هشت باشد.


۷- علامت > = < بگذارید.

$5 + 20 + 10 = \bigcirc 50 + 5 - 20 =$

$40 - 30 = \bigcirc 30 - 20 + 5 =$



..... 



بسمه تعالی

پاسخنامه

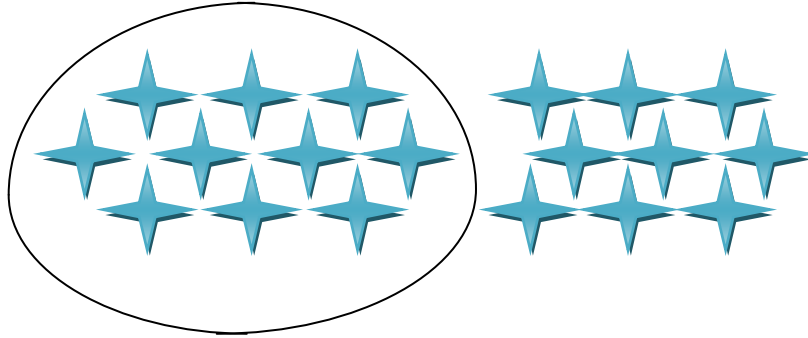
آزمون ریاضی پایه دوم ابتدایی

(فصل ۱)



www.barttar.ir

-۱



ده تایی	یکی
۱	۹

به عدد: ۱۹

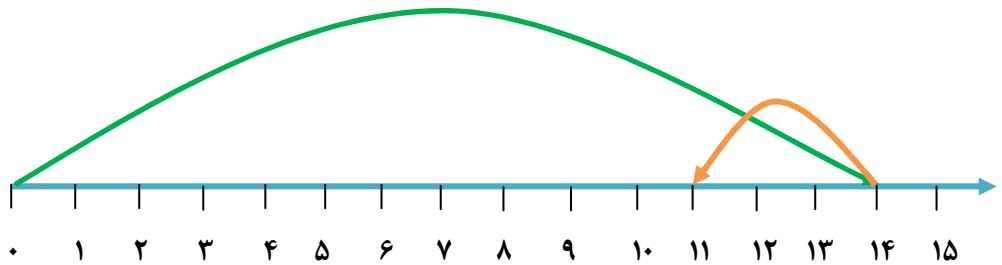
به حروف: نوزده



۲- پس نگار ۲۱ گل نرگس دارد.

-۳

(محور) $۱۴ - ۳ =$



(شکل) $۸ + ۴ - ۳ =$





www.barttar.ir

بسمه تعالی

پاسخنامه


آزمون ریاضی پایه دوم ابتدایی

(فصل ۱)

-۴

.....۲۰..... ۳۲..... ۲۲..... ۳۳..... ۲۰..... ۲۳.....

-۵

۴ - ۱۱ - ۱۸ - ۲۵ - ۳۲ - ۳۹

 -۷ -۷

۸۸ - ۸۹ - ۹۰ - ۹۱ - ۹۲ - ۹۳ - ۹۴

شصت و چهار - شصت و شش - شصت و هشت - هفتاد - هفتاد و دو - هفتاد و چهار - هفتاد و شش

-۶

(۱) عدد قبل از ۷۶ چه عددی است؟ ۷۵ اگر شش عدد به جلو ببریم به چه عددی می رسی؟ ۸۱

(۲) عدد ۵۳ چند رقمی است؟ دو رقمی با رقم های آن دو عدد دیگر بنویس ۳۵ ۵۵

(۳) من چه عددی هستم؟ رقم دهگانم هشت و یکانم بزرگترین عدد یک رقمی است. ۸۹

(۴) اگر از بزرگترین عدد دو رقمی که ارقامش تکراری نباشد سه تا کم کنیم چه عددی می شود؟ ۹۵



توضیحات: بزرگترین عدد دو رقمی که ارقامش تکراری نباشد ۹۸ است که اگر سه تا از آن کم کنیم ۹۵ می شود.

(۵) سه عدد بنویس که دهگانش هشت باشد ۸۵ ۸۶ ۸۷ ۸۸ ...



$$\underbrace{5 + 20 + 10}_{35} = \underbrace{50 + 5 - 20}_{35} =$$

$$\underbrace{40 - 30}_{10} < \underbrace{30 - 20 + 5}_{15} =$$



$$\dots 26 \dots < \dots 31 \dots$$